

Nombre \_\_\_\_\_

Tarea

Date \_\_\_\_\_

1. 
$$\begin{array}{r} 58 \\ + 93 \\ \hline \end{array}$$

2. 
$$\begin{array}{r} 15 \\ + 47 \\ \hline \end{array}$$

3. 
$$\begin{array}{r} 15 \\ + 27 \\ \hline \end{array}$$

4. 
$$\begin{array}{r} 25 \\ + 96 \\ \hline \end{array}$$

Escribe el valor:






5.  \_\_\_\_\_

6.  \_\_\_\_\_

7.  \_\_\_\_\_





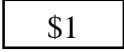
8.  \_\_\_\_\_

9. Dibuja monedas para hacer \$0.91.

Usa los símbolos     y  .





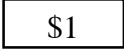
---

10. Dibuja monedas para hacer \$1.03.

Usa los símbolos     y  .

---

11. Dibuja monedas para hacer \$0.17 **en dos maneras.**

Usa los símbolos     y  .





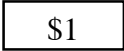
Manera 1:

---

Manera 2:

---

12. Dibuja monedas para hacer \$1.26 **en dos maneras.**

Usa los símbolos     y  .

Manera 1:

---

Manera 2:

---